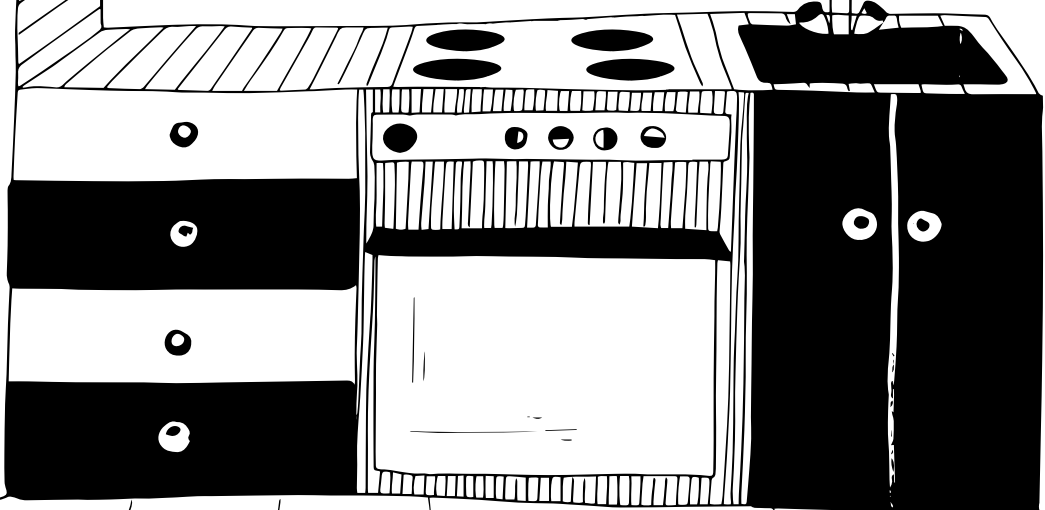
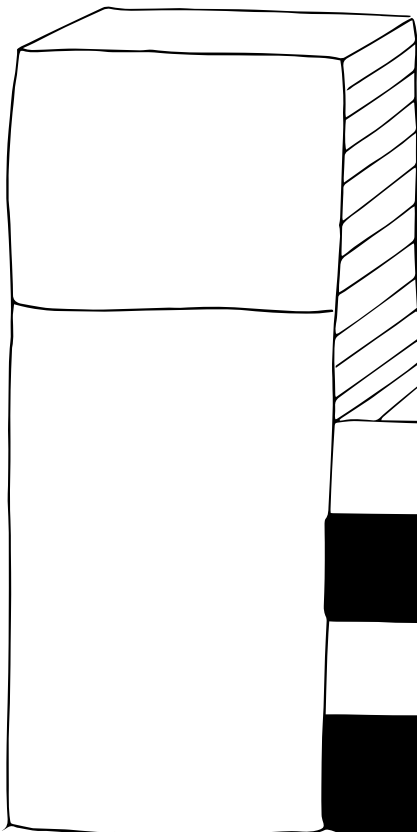

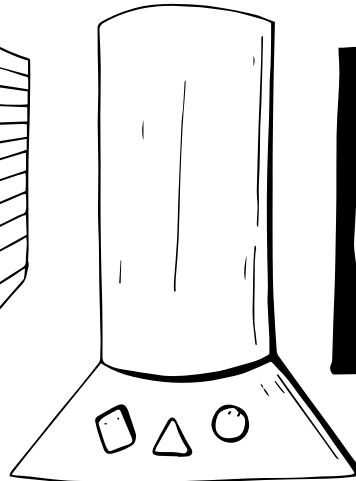







1. PAKABINK ANT ŠALDYTUVO MAGNETUKUS:

- 1 TRIKAMPIO FORMOS Δ
- 2 STAČIAKAMPIO FORMOS \square

- 2 KVADRATO FORMOS \square
- 1 APSKRITIMO FORMOS \circ




KUBIS PATARIA



1. VIRTUVĖJE NUPIEŠK:

1. RANKENĄ ANT ŠALDYTUVO
2. KEMPINĘ ŠALIA KRIAUKLĖS
3. LEMPUTES PO GARTRAUKIU
4. KEPTUVĘ VIRŠ ORKAITĖS
5. SAMTĮ IR ŠAUKSTĄ PO LĖKŠČIŲ SPINTELE
6. VIRDULĮ VIRŠ STALČIŲ
7. LAIKRODĮ VIRŠ GARTRAUKIO
8. TRIS PLYTELES KAIRĖJE PUSĖJE APTAŠKYK BRAŠKIŲ UOGIENE
9. DVI PLYTELES DEŠINĖJE PUSĖJE NUSPALVINK SAVO MĖGSTAMA SPALVA

2. PAŽIŪRĖK Į ŠIUOS INDUS IR ATSAKYK Į KLAUSIMUS:



1. KIEK INDŲ YRA LENTYNOSE?



2. KIEK INDŲ TURI DANGTELIOUS?




3. APIBRAUK, KURIS INDAS YRA AUKŠČIAUSIAS

4. APIBRAUK, KURIS INDAS YRA ŽEMIAUSIAS

5. NUSPALVINK INDUS SKIRTINGOMIS SPALVOMIS:

- KAIRĖJE PUSĖJE
- DEŠINĖJE PUSĖJE

KUBIS PRIMENA



1. ATSAKYK Į KLAUSIMUS:

1. KIEK LENTYNOJE LĖKŠČIŲ?

2. KIEK LENTYNOJE PUODYNIŲ?

3. PAŽYMĖK > ARBA <, KO YRA DAUGIAU:

LĖKŠČIŲ PUODYNIŲ

4. KIEK LĖKŠČIŲ TURĖTUM, JEI:

NUSIPIRKTUM DAR TRIS?

5. NUSIPIRKTUM TRIS, BET DVI SUDUŽTŲ?

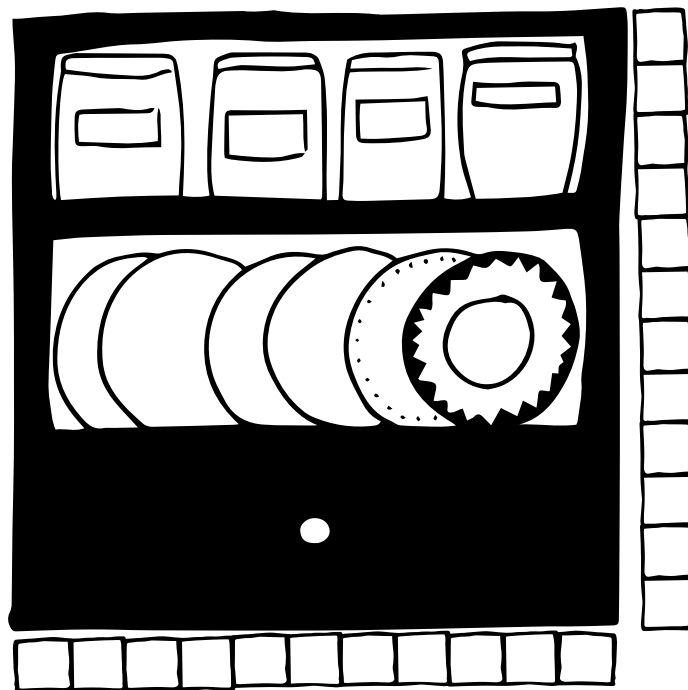
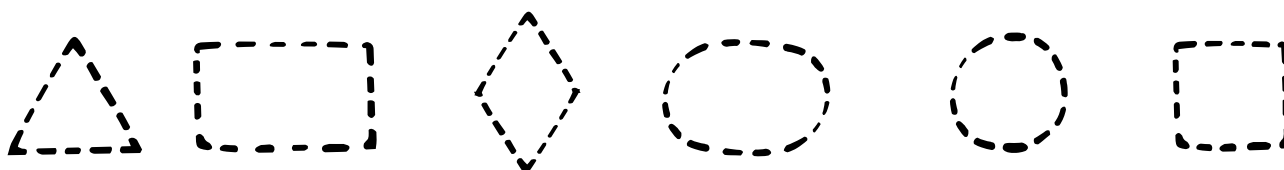
6. SUSKAIČIUOK LANGELIAIS, KOKS LENTYNOS AUKŠTIS?

 LANGELIŲ

7. SUSKAIČIUOK LANGELIAIS, KOKS LENTYNOS PLOTIS?

 LANGELIŲ


8. APVEDŽIOK, Į KOKIAS FIGŪRAS PANAŠIOS LĖKŠTĖS IR LENTYNOS?



KUBIS PRIMENA

KRIAUKLĖJE BUVO 6 LĖKŠTĖS. TĒTIS ĪPLOVĒ 2, MAMA-1, VAIKAI-2.
KIEK LĖKŠČIŲ LIKO KRIAUKLĖJE?

$$6 - 2 - 1 - 2 = 1$$



1. SUSKAIČIUOK

1. TĒTIS ATNEŠĒ 4 LĖKŠTES, MAMA-2,
O VAIKAI-3. KIEK LĖKŠČIŲ REIKĒS ĪSPLAUTI?

$$4 + 2 + 3 = \square$$

2. MAMA ATNEŠĒ 3 ŠAUKŠTUS, TĒTIS 3 PEILIUS,
VAIKAI 3 ŠAKUTES. KIEK ĮRANKIŲ REIKĒS
ĪSPLAUTI?

$$\square + \square + \square = \square$$

3. VAIKAI ATNEŠĒ 2 PUODELIUS, MAMA 1 KEPTUVĖ,
TĒTIS 5 DUBENĒLIUS. KIEK INDŲ REIKĒS
ĪSPLAUTI?


$$\square + \square + \square + \square + \square = \square$$

4. KRIAUKLĖJE BUVO 9 LĖKŠTĖS. MAMA ĪPLOVĒ 2, TĒTIS-1, VAIKAI-3. KIEK LĖKŠČIŲ
LIKO KRIAUKLĖJE?

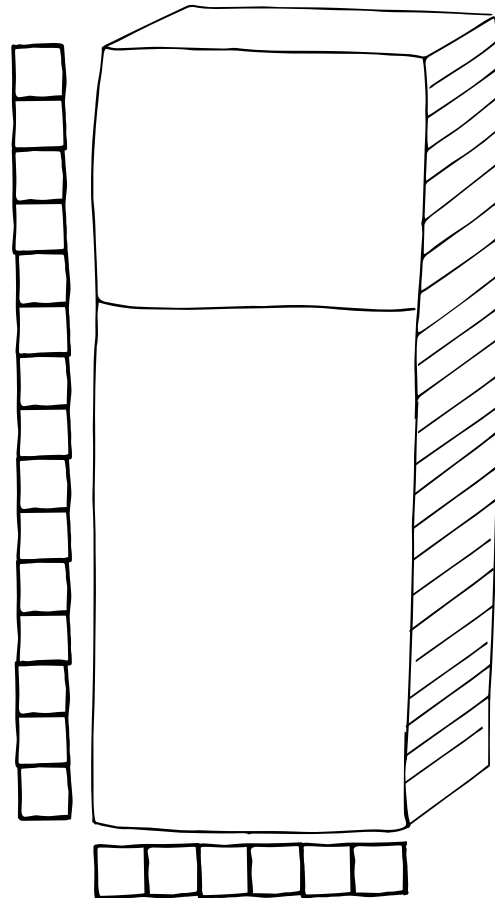
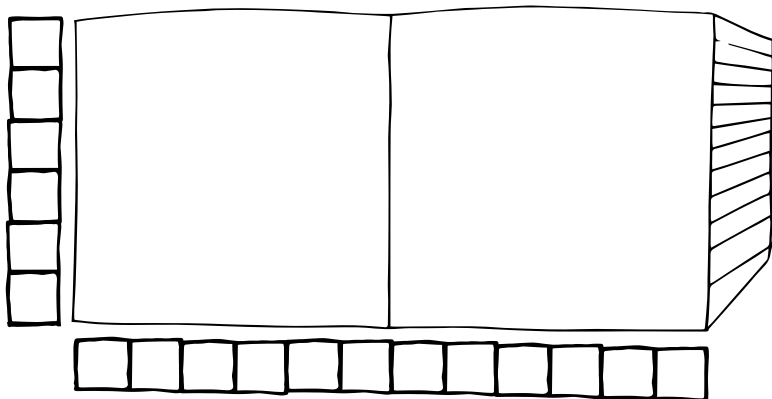

$$\square - 2 - 1 - 3 = \square$$

5. KRIAUKLĖJE BUVO 6 PUODELIAI. VAIKAI ATNEŠĒ DAR 2, MAMA ĪPLOVĒ 3. KIEK
PUODELIŲ LIKO KRIAUKLĖJE?

$$6 - 2 - 3 = \square$$



KUBIS PATARIA



1. ATSAKYK Į KLAUSIMUS

1. SUSKAIČIUOK LANGELIAIS, KOKS ŠALDYTUVO AUKŠTIS?

LANGELIŲ

2. SUSKAIČIUOK LANGELIAIS, KOKS ŠALDYTUVO PLOTIS?

LANGELIAI

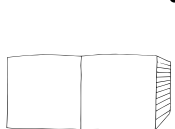
3. SUSKAIČIUOK LANGELIAIS, KOKS SPINTELIŲ AUKŠTIS?

LANGELIAI

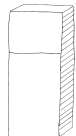
4. SUSKAIČIUOK LANGELIAIS, KOKS SPINTELIŲ PLOTIS?

LANGELIŲ

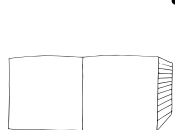
5. KURIS IŠ JŲ PLATESNIS? NUSPALVINK



AR



6. KURIS IŠ JŲ AUKŠTESNIS? NUSPALVINK



AR

