

PRADEDANTYSIS NESUDĖTINGA SUDĖTIS

Dėtukas svajoja būti kaip herojai Matematukai.
Jis visada sprendžia matematinės užduotis,
net sudeda daiktus, kurie mėtosi jo kambaryje.

Pavyzdžiui: 2 kojinės + 3 kojinės = 5 kojinės



1 GALVOSŪKIS

Sudėk pieštukus, pabirusius ant Dėtuko stalo. Kiek iš viso jų yra?



2 GALVOSŪKIS

Skaičiuodamas Dėtukas mėgsta užkąsti. Sudėk pavaizduotus vaisius.



NAUDINGAS PATARIMAS



Sudedant daugiau nei du
skaičius veiksmus galima išskaidyti.
Pavyzdžiui, jeigu nori sudėti

$$5 + 8 + 4,$$

pirmiausia sudėk $5 + 8$ ir gausi 13.

Tada sudėk $13 + 4$ gausi 17.

PASIPRAKTIKUOK

Pabaik Dėtuko namų darbus.

$$3 + 4 + 5 = \dots\dots \quad 8 + 7 + 2 = \dots\dots$$

$$6 + 4 + 7 = \dots\dots \quad 4 + 5 + 9 = \dots\dots$$

$$4 + 9 + 6 = \dots\dots \quad 3 + 5 + 7 = \dots\dots$$

$$3 + 3 + 3 = \dots\dots \quad 8 + 4 + 6 = \dots\dots$$



PELIŲ DIENRAŠTIS


3 GALVOSŪKIS

Apie Matematikus Dėtukas perskaitė dienraštyje. Karaliui Leopoldui jie atlieka įspūdingus matematinius skaičiavimus, sudeda vieno, dviejų ir trijų skaitmenų skaičius. Ar ir tu sugebėtum taip skaičiuoti?

Atimas sudeda vienetus: $5 + 7 + 4 = \dots\dots\dots$

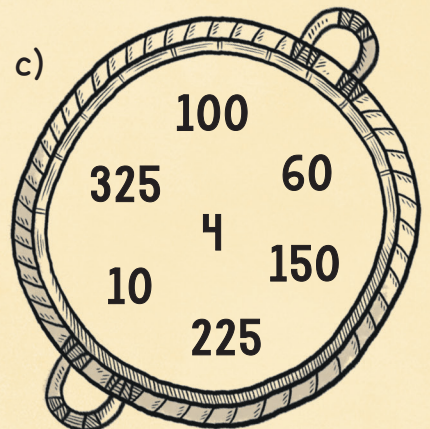

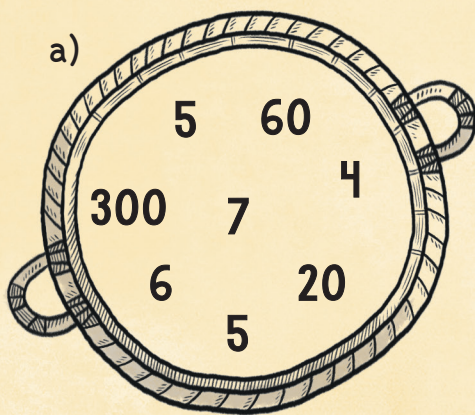
Daugis sudeda dešimtis: $20 + 30 + 15 = \dots\dots\dots$

Dalas sudeda šimtus: $200 + 250 + 500 = \dots\dots\dots$



4 GALVOSŪKIS

Mėgstamiausia Dėtuko laikraščio skiltis - galvosūkiai. Ar padėsi jam išsiaiškinti šio skaičių pribirusių pintinių iššūkio atsakymus?



Sudėk vienaženklus skaičius:

Sudėk dviženklus skaičius:

Sudėk triženklus skaičius:

NESUDĖTINGA ATIMTIS

Dėtukas ruošiasi keliauti į Paryžių susipažinti su Matematukais, bet prisirinko per daug daiktų. Juk nereikia dešimties dantų šepetėlių! Ar atimsi daiktus, kurie jam nereikalingi?



5 GALVOSŪKIS

Ne tik dantų šepetėlių Dėtukas pasiėmė per daug. Atimk ir sužinok, kiek jam reikia pavaizduotų daiktų.



$$11 - 3 = \dots\dots\dots \text{marškinėliai}$$



$$16 - 7 = \dots\dots\dots \text{užrašų sąsiuviniai}$$



$$19 - 4 = \dots\dots\dots \text{sūrio gabalėlių}$$

Dėtukas buvo pasirinkęs 46 daiktus, iš jų atėmė 14. Kiek daiktų jam liko?

6 GALVOSŪKIS

Dėtukui, nors ir kaip stengėsi, į krepšį tilpo tik 15 daiktų. Jam vėl teks kai ko neimti.

Iš likusių daiktų atimk dar 15. Kiek daiktų Dėtukas turės palikti?

