





Atidžiai įsižiūrėk. Pirmiausia apvesk žaliu apskritimu batus, kurie rodo į kairę. Tuomet apvesk mėlynu apskritimu automobilius, kurie nukreipti į dešinę.

Mokykimės skirti dešinę ir kairę pusę



Ar viską atlikai teisingai? Gali prilipdyti 4 žvaigždes!





Kas stovi šalia indėno? Sujunk taškus linija didėjančia skaičių seka. Ką matai?



Ar viską atlikai teisingai? Gali prilipdyti **4** žvaigždes!

