

Nutrink lengvai

Linksmieji skaičiai



Rašyk ir trink
3 specialiais rašikliais!



Suskaičiuok, kiek yra kiekvienoje eilėje, ir parašyk skaičių.



Parašyk skaičius:

Kiek tau metų?

Parašyk savo namo numerį.

Koks tavo telefono numeris?

Kiek narių tavo šeimoje?



Smagu apsilankyti parke.
Jame daug ką galima suskaičiuoti!



Suskaičiuok antis ir parašyk jų skaičių.



Sujunk taškus pradėdamas nuo 1 – parodysi antelėms kelią iki tvenkinio.



Nupiešk daugiau ančių. Suskaičiuok visas anteles ir parašyk jų skaičių.



Kiek yra medžių? Parašyk jų skaičių.
Suskaičiuok paukščius ir parašyk jų skaičių.

medžiai

paukščiai



Skaičius sudedame šitaip: $1 + 1 = 2$ $2 + 1 = 3$



Nupiešk 1 bitę. Suskaičiuok visas bitutes ir parašyk jų skaičių.

$$\begin{array}{ccccccc} \text{bee} & \text{bee} & & & & & \\ \text{3} & & + & & = & & \square \end{array}$$



Drrr drrr! Drrr drrr! Pyyp pyyp! Pyyp pyyp!
Mašinų Miesto gatvė labai judri!



Parašyk skaičius:

Kiek yra automobilių?

Kiek yra sunkvežimių?



Nupiešk 1 lėktuvą. Suskaičiuok visus lėktuvus ir parašyk jų skaičių.

$$4 + 1 = \square$$



Parašyk 2.

Rask daiktus, kurie turi 2 ratus.




Nupiešk kokį nors daiktą su ratais.


Kiek yra ratų?


Parašyk jų skaičių.


Ūkyje daugybė gyvulių. Ar žinai jų pavadinimus?


 Suskaičiuok vištes ir parašyk jų skaičių.

 Nupiešk kelis viščiukus, juos suskaičiuok ir parašyk jų skaičių.

 Kiek yra triušių? Parašyk jų skaičių.

 Pasirink, ką nori suskaičiuoti, ir parašyk jų skaičių.

 Sudėk skaičius ir parašyk atsakymą. $5 + 1 = \square$



 Sujunk taškus ir pamatysi, ką mėgsta triušiai!

