



Nutrink lengvai

Ūkis

Figūros ir dydžiai

Rašyk,
trink,
vartyk!

Įvardyk figūras!

Stačiakampis

Nupiešk stačiakampį ir ištark jo pavadinimą.

1, 2, 3 ar 4?


Kiek kraštinių turi stačiakampis?

Parašyk skaičių. _____

Ar gali nupiešti raudoną tvartelį?



Ar gali surasti tokią pačią formą?




Pasuk ratuką.

Raudoname tvarte – daugybė karvių! „Mū mū!“ – mūkia karvės. Šitaip jos sveikinasi! Ar gali ištartti „mū“ kaip karvutė?

Rask kelis stačiakampio formos daiktus.



Ar karvutė didesnė už savo mažylį veršelį?




Nupiešk didesnį ir mažesnį stačiakampius.



Prie ančių tvenkinio stovi namukas su **1, 2, 3, 4, 5** langeliais. Ar atspėsi, kas jame gyvena?



Išsirink figūrą ir nupiešk ją.



Nupiešk trikampį ir ištark jo pavadinimą.

Trikampis

Kiek kraštinių turi trikampis?


Nupiešk, suskaičiuok ir parašyk skaičių. _____

Nupiešk figūrą, turinčią 4 kraštines. Ar gali iš tokių figūrų sukurti piešinį?



Kriu kriu, kriu kriu! Visi paršeliai, išsivolioję dumble, grįžta pailsėti. Išdykę paršiukai!

Kokios formos paršelių namai?



Kokios formos yra paukščiai? Nupiešk.



Trikampis + stačiampis = medis. Ar mokėsi taip nupiešti?

