
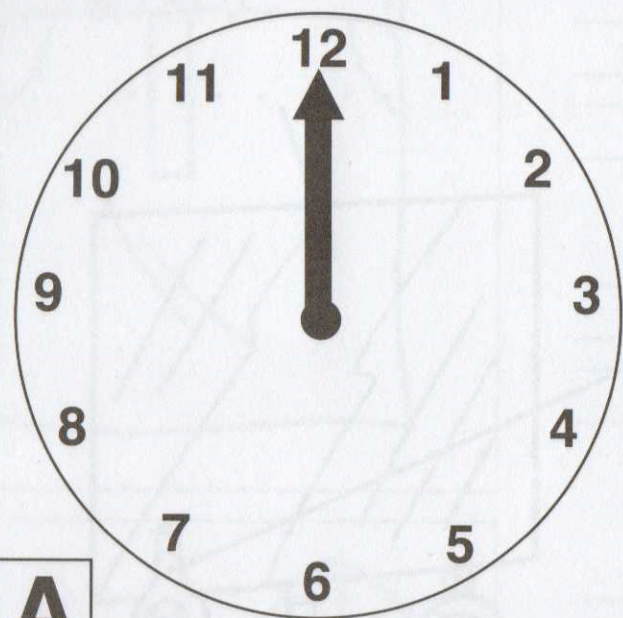
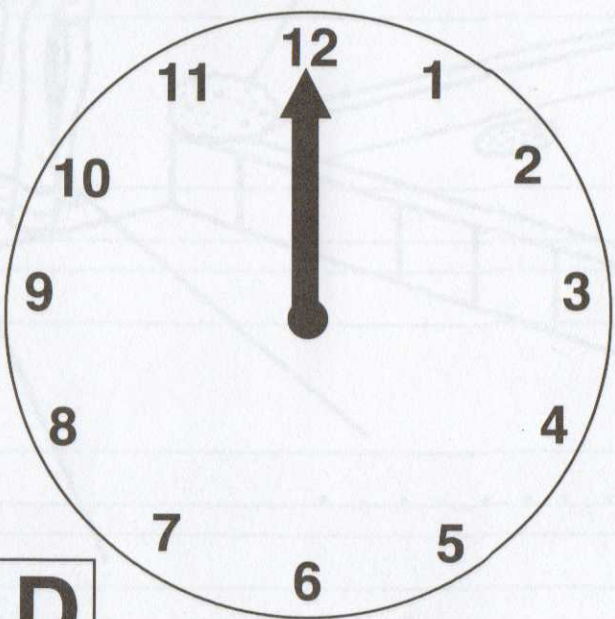




Nupiešk mažąsias laikrodžio rodykles taip, kad A laikrodis rodytų 11 valandų, o B laikrodis – 10 valandų.



Nupiešk mažąsias laikrodžio rodykles taip, kad C laikrodis rodytų 7 valandas, o D laikrodis – 1 valandą.



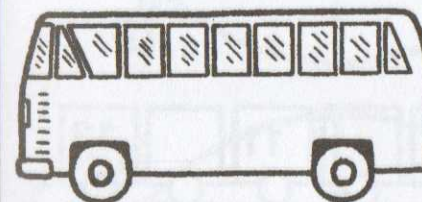
Kairėje pusėje nupiešti paveikslėliai, o dešinėje – juose esančių daiktų pavadinimai. Įrašyk praleistas raides.



gi . ara



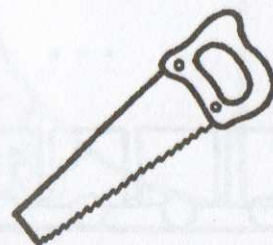
laik . odis



a . tobu . as



ga . elė



p . ūklas

Kairėje pusėje yra atsakymai, gauti atlikus skaičiavimo užduotis. Tačiau kiekvienoje eilutėje įsivėlė po vieną klaidą. Surask ją ir nuspalvink raudonai langelį, kuriame yra ta klaida.

11	$3+8$	$15-3$	$5+6$	$1+10$
-----------	-------	--------	-------	--------

5	$2+3$	$4+1$	$7-1$	$10-5$
----------	-------	-------	-------	--------

8	$4+5$	$10-2$	$4+4$	$3+5$
----------	-------	--------	-------	-------


10	$4+6$	$1+9$	$11-2$	$12-2$
-----------	-------	-------	--------	--------

7	$2+5$	$6+1$	$10-3$	$10-4$
----------	-------	-------	--------	--------

9	$8+1$	$11-3$	$11-2$	$5+4$
----------	-------	--------	--------	-------

6	$3+3$	$10-4$	$4+3$	$11-5$
----------	-------	--------	-------	--------

Gerai įsižiūrėk į piešinėlius ir po jais parašytus žodžius. Tada dešinėje pusėje esančiuose laukeliuose tarp raidžių surask tuos žodžius. Ieškok gulsčiai, statmenai ir įstrižai.



RYKLYS

A	I	H	G	F	E	D	C	B	A
B	F	B	A	B	H	M	K	J	C
C	B	H	K	L	D	O	K	L	Z
D	D	C	R	L	J	G	S	E	R
E	R	Y	K	L	Y	S	L	O	A
F	C	F	E	V	U	O	E	E	Z
G	T	P	O	G	P	E	P	N	Y
H	D	D	T	R	A	E	J	F	Š
J	Č	R	O	I	H	I	H	K	È
I	D	E	H	E	G	H	R	H	U
K	L	M	P	O	D	Y	R	S	T



RAGANA

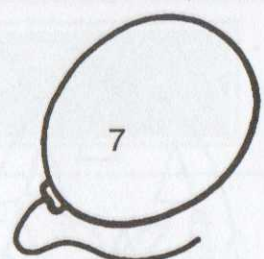
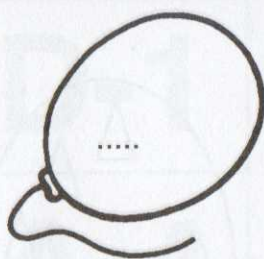
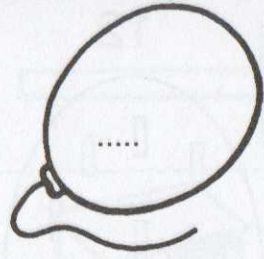
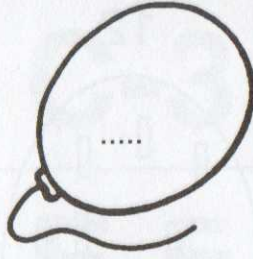
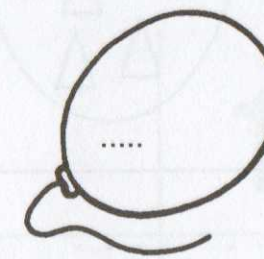
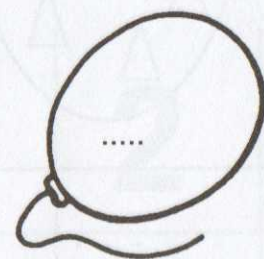
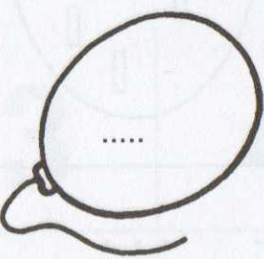
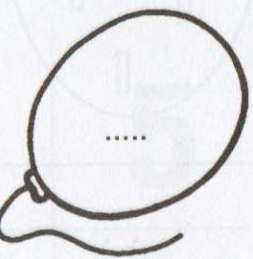
F	F	C	T	V	F	I	F	P	G
G	Z	B	A	B	O	A	U	S	F
H	N	E	E	D	N	E	J	Z	O
J	H	E	F	A	P	J	H	H	H
K	D	O	G	H	U	F	T	U	J
L	D	A	I	E	B	M	G	E	K
P	R	F	U	V	N	O	T	V	H
G	B	Y	G	N	U	Y	M	K	F
V	D	S	D	H	V	S	S	N	U
D	S	O	R	C	I	È	R	E	E
R	T	G	I	P	J	K	L	G	F




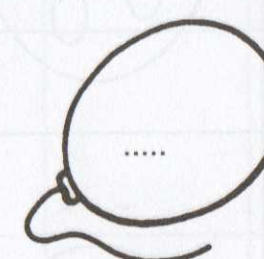
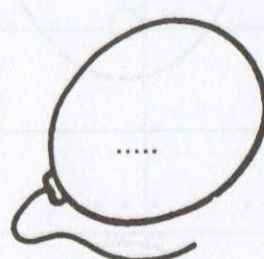
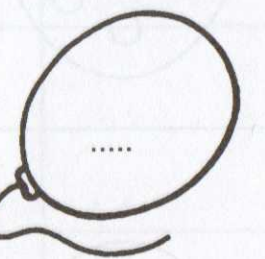
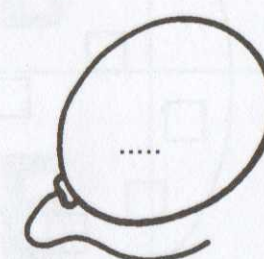
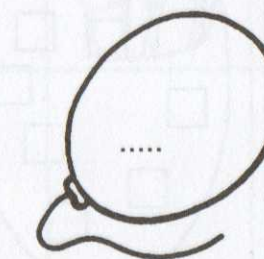
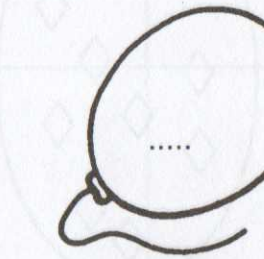

ELNIAS

C	T	T	Y	U	G	U	I	L	U
S	U	S	E	D	D	R	G	H	M
H	T	I	L	D	T	I	H	L	U
E	U	Y	N	F	T	D	K	E	Y
C	H	R	I	S	R	I	S	O	K
B	T	N	A	E	N	A	E	E	J
V	J	R	S	I	R	I	G	E	H
B	A	Y	J	C	Y	F	È	E	R
H	Y	H	A	I	D	Y	U	R	R
I	F	C	T	Y	S	G	H	A	E
O	H	R	T	U	Z	R	T	J	U


Atlik visas skaičiavimo užduotis ir gautus atsakymus įrašyk, kaip pavyzdyje. Tada visus balionus, kuriuose yra atsakymas 5, nuspalvink mėlynai, o likusius – geltonai.

 7			
6 + 1	10 - 4	11 + 5	12 - 7
			
6 + 2	11 - 3	13 + 4	8 - 6


Atlik skaičiavimo užduotis ir gautus atsakymus įrašyk kaip pavyzdyje. Tada visus balionus, kuriuose yra atsakymas 16, nuspalvink raudonai, o likusius – žaliai.

 12			
11 + 1	14 - 1	7 + 6	12 - 3
			
13 + 5	14 - 9	6 + 4	18 - 8

Žaliai nuspalvink antrą ir trečią butelius.



Raudonai nuspalvink pirmą ir paskutinį kastuvus.



Geltonai nuspalvink ketvirtą ir penktą vėjo malūnėlius.

